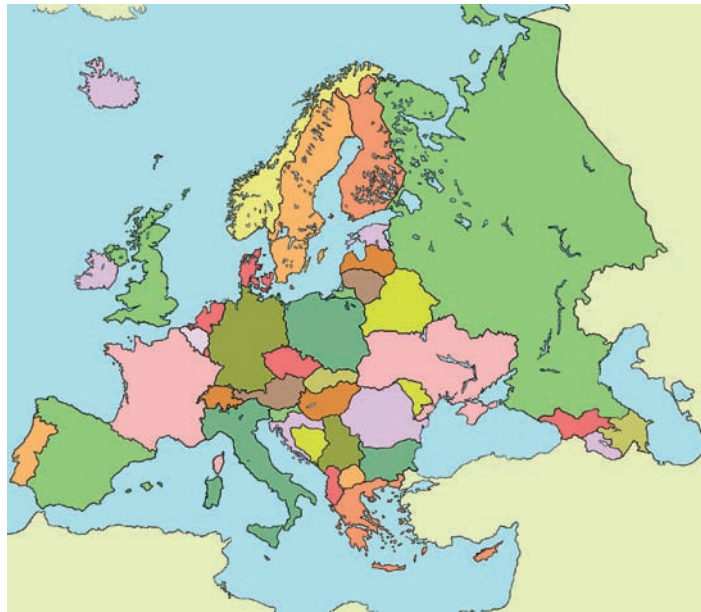


Οι κάτοικοι και τα κράτη της Ευρώπης

Δραστηριότητες

1. Γράψε τα ονόματα των ευρωπαϊκών κρατών που περιβρέχονται από τον Εύξεινο Πόντο. Κατόπιν σημείωσε και τις πρωτεύουσες των κρατών αυτών. Μπορείς να βοηθηθείς από τον πολιτικό χάρτη της Ευρώπης που περιλαμβάνεται στο σχολικό βιβλίο.



Εικόνα 29.1: Πολιτικός χάρτης της Ευρώπης

2. Αντιστοίχισε κράτη και περιοχές της Ευρώπης

Ιταλία	●		●	Ελβετία
Πολωνία	●		●	Βουλγαρία
Φινλανδία	●	●	Σκανδιναβία	●
Ελλάδα	●	●	Βορειοκεντρική Ευρώπη	●
Γερμανία	●	●	Ανατολική Ευρώπη	●
Αυστρία	●	●	Νότια Ευρώπη	●
Τσεχία	●	●		●
Αγγλία	●	●		●
				●

3. Βρες στο κρυπτόλεξο επτά από τα κράτη της Βαλκανικής χερσονήσου.

A Δ Σ Κ Α Λ Β Α Ν Ι Α Σ Τ Ο
 Φ Χ Λ Τ Ω Ρ Ο Υ Μ Α Ν Ι Α Κ
 Κ Τ Ο Α Χ Ε Υ Ρ Β Ι Ω Τ Χ Δ
 Ι Τ Β Ο Σ Ε Λ Λ Α Δ Α Β Ε Ζ
 Β Α Ε Γ Σ Χ Γ Μ Π Ε Ν Ρ Ξ Ο
 Θ Ε Ν Ι Ρ Π Α Β Δ Ο Υ Φ Τ Κ
 Α Χ Ι Ψ Ε Κ Ρ Ο Α Τ Ι Α Β Ω
 Γ Ε Α Δ Ζ Θ Ι Π Κ Η Λ Ξ Ρ Α
 Π Γ Δ Μ Α Ι Α Θ Π Φ Δ Ζ Η Τ

1.
2.
3.
4.
5.
6.
7.

Πολιτιστικά χαρακτηριστικά των λαών της Ευρώπης

Δραστηριότητες

1. Ποιες από τις παρακάτω προτάσεις είναι σωστές και ποιες λανθασμένες;

Γράψε «Σ» για τη σωστή και «Λ» για τη λανθασμένη στο

α) Όλοι οι κάτοικοι της Ευρώπης έχουν τα ίδια ήθη και έθιμα

β) Οι ανακαλύψεις συνέβαλαν στην πολιτιστική ανάπτυξη της Ευρώπης

γ) Η βιομηχανική επανάσταση οδήγησε την Ευρώπη σε κοινωνικές αλλαγές

δ) Ο ευρωπαϊκός πολιτισμός είναι δημιούργημα του ελληνικού και του ρωμαϊκού πολιτισμού

ε) Όλοι οι κάτοικοι της Ευρώπης έχουν την ίδια θρησκεία

2. Συγκέντρωσε πληροφορίες αναφορικά με παραδοσιακούς χορούς και μουσικά όργανα από τρεις χώρες της Ευρώπης της δικής σου επιλογής.

.....

.....

.....

.....

.....

.....

3. Οι κάτοικοι μερικών χωρών άλλων ηπείρων μιλούν ορισμένες ευρωπαϊκές γλώσσες. Εξήγησε πώς συνέβη αυτό.

.....

.....

.....

.....

.....

.....

Αξιοθέατα, μνημεία και ιστορική συνέχεια των λαών της Ευρώπης

Δραστηριότητες

1. Ποιες από τις παρακάτω προτάσεις είναι σωστές και ποιες λανθασμένες;

Γράψε «Σ» για τη σωστή και «Λ» για τη λανθασμένη στο

- α)** Ο πολιτισμός της Ευρώπης καθορίστηκε από τον αρχαίο ελληνικό και τον αρχαίο ρωμαϊκό πολιτισμό
- β)** Όλες οι γλώσσες των ευρωπαϊκών χωρών είναι επηρεασμένες από την αρχαία ελληνική
- γ)** Η Αναγέννηση ξεκίνησε από την Αμερική
- δ)** Η Γερμανία είναι η πατρίδα του Μότσαρτ
- ε)** Τα έργα τέχνης αναδεικνύουν τον πολιτισμό ενός λαού μα και τις επιρροές του από άλλους

2. Ο Μπετόβεν διέπρεψε στη μουσική, ο Πικάσο στη ζωγραφική και ο Οδυσσέας Ελύτης στην ποίηση. Βρες κι εσύ και άλλους μεγάλους Ευρωπαίους καλλιτέχνες και δημιουργούς, γράψε τους τομείς στους οποίους μεγαλούργησαν και ανέφερε ένα από τα έργα τους.

Καλλιτέχνης

Τέχνη

Έργο

.....

.....

.....

.....

3. Στο πλαίσιο που ακολουθεί φτιάξε ένα κολάζ με έργα ζωγραφικής, γλυπτικής ή αρχιτεκτονικής γνωστών Ευρωπαίων καλλιτεχνών. Σε κάθε εικόνα να γράψεις και το όνομα του δημιουργού.

Τομείς παραγωγής αγαθών και παροχής υπηρεσιών

Δραστηριότητες

1. Αντιστοίχισε τους τομείς παραγωγής με τη σημασία κάθε τομέα.

Πρωτογενής τομέας

Επεξεργάζομαστε τα αγαθά (βιοτεχνία, βιομηχανία)


Δευτερογενής τομέας

Αναλαμβάνουμε δραστηριότητες, για να εξυπηρετήσουμε ορισμένες ανάγκες και παρέχουμε υπηρεσίες (εμπόριο, μεταφορές, επικοινωνίες, τουρισμός, τράπεζες κ.λπ.)

Τριτογενής τομέας

Παραλαμβάνουμε τα αγαθά απευθείας από τη φύση (γεωργία, κτηνοτροφία, αλιεία)

2. Σχεδιάσε στο πλαίσιο που ακολουθεί διαφορετικές εικόνες που θα δείχνουν την παραγωγή ενός προϊόντος, την επεξεργασία του και την προσφορά του στην κατανάλωση. Δικαιολόγησε τη σύνδεση που υπάρχει ανάμεσα στον πρωτογενή, το δευτερογενή και τον τριτογενή τομέα παραγωγής.



.....

.....

.....

**3. Απάντησε στις ερωτήσεις που ακολουθούν:**

α) Γιατί η Σουηδία και η Φινλανδία είναι οι χώρες με τη μεγαλύτερη παραγωγή ξυλείας σε όλη την Ευρώπη;

.....
.....
.....

β) Γιατί η Νορβηγία είναι η μεγαλύτερη αλιευτική χώρα της Ευρώπης;

.....
.....
.....

γ) Γιατί η Ελβετία έχει αναπτύξει σε μεγάλο βαθμό την κτηνοτροφία;

.....
.....
.....

δ) Γιατί η Γαλλία φημίζεται για τα κρασιά της;

.....
.....
.....

ε) Τι επιτυγχάνεται με την εφαρμογή των νέων τεχνολογιών στον τομέα της γεωργίας;

.....
.....
.....

Οι σχέσεις των κρατών της Ευρώπης και η Ευρωπαϊκή Ένωση

Δραστηριότητες

1. Παρακάτω αναφέρονται μερικοί από τους στόχους της Ευρωπαϊκής Ένωσης. Μελέτησέ τους και κατηγοριοποίησέ τους σε οικονομικούς και κοινωνικούς:

ευημερία των πολιτών, προώθηση της ειρήνης, αύξηση γεωργικής και κτηνοτροφικής παραγωγής, ελεύθερη μετακίνηση πολιτών μεταξύ των κρατών-μελών, πολιτιστική ανάπτυξη, συμμετοχή στο διεθνές εμπόριο, ανθρώπινα δικαιώματα, κατάργηση δασμών* των προϊόντων μεταξύ των κρατών-μελών

Οικονομικοί στόχοι


Κοινωνικοί στόχοι

* δασμός: χρηματικό ποσό που καταβάλλεται στο τελωνείο για την εισαγωγή εμπορευμάτων

2. Συμπλήρωσε το παρακάτω κείμενο με τις λέξεις που λείπουν:

Στις 9 Μαΐου 1950 ιδρύθηκε η Κοινότητα _____ και _____. Ήταν μία κοινή προσπάθεια των λαών να χρησιμοποιήσουν τους φυσικούς _____. Στις 25 Μαρτίου _____ ιδρύθηκε η Ευρωπαϊκή Οικονομική Κοινότητα (Ε.Ο.Κ.) με τη «Συνθήκη της _____». Η Ελλάδα εντάσσεται στην Ε.Ο.Κ. στις _____. Στις 7 Φεβρουαρίου 1992 με τη Συνθήκη του _____ η Ε.Ο.Κ. αλλάζει όνομα και διευρύνει τους _____ της. Τώρα λέγεται Ευρωπαϊκή Ένωση και οι στόχοι της είναι πλέον και _____.

3. Παρατηρώντας ένα χαρτονόμισμα του ευρώ διακρίνουμε στη μία όψη γέφυρες, οι οποίες συμβολίζουν τους δεσμούς των ευρωπαϊκών λαών μεταξύ τους και τους δεσμούς της Ευρώπης με τον κόσμο ολόκληρο. Στην άλλη όψη διακρίνουμε πύλες και παράθυρα που συμβολίζουν το ανοιχτό πνεύμα και τη συνεργασία των κρατών-μελών της Ευρωπαϊκής Ένωσης. Εσύ τι θα σχεδίαζες σε κάθε όψη του νομίσματος, για να αποδώσεις τους ίδιους συμβολισμούς;




Εξήγησε το λόγο, για τον οποίο διάλεξες τα σχέδια αυτά.

.....

.....

.....

4. Ζωγράφισε κι εσύ το χάρτη της Ευρωπαϊκής Ένωσης και γράψε το όνομα και την πρωτεύουσα κάθε κράτους-μέλους.



Οι ήπειροι

Η Ευρώπη

5ο φύλλο αξιολόγησης

1. Απαντήστε στις παρακάτω ερωτήσεις:

α) Γιατί η Ευρώπη θεωρείται «το σταυροδρόμι των τριών ηπείρων»;

.....
.....

β) Πώς διαμορφώθηκαν τα φιόρδ της Νορβηγίας;

.....
.....

γ) Ποιοι είναι οι δύο μεγαλύτεροι ποταμοί της Ευρώπης;

.....
.....

δ) Γιατί όλα τα κράτη της Ευρώπης δεν είναι το ίδιο ανεπτυγμένα οικονομικά και τεχνολογικά;

.....
.....

2. Γράψτε τις πρωτεύουσες των παρακάτω κρατών της Ευρώπης:

Κράτη

Πρωτεύουσες

Ιταλία

.....

Ισπανία

.....

Γερμανία

.....

Ηνωμένο Βασίλειο

.....

Δανία

.....

3. Αντιστοιχίστε ενέργειες και αποτελέσματα.

Μεγάλες εφευρέσεις και ανακαλύψεις

Οικονομική και κοινωνική πρόοδος

Έκρηξη πολέμου

Τεχνολογική επανάσταση

Συνεργασία των λαών

Ενίσχυση της οικονομίας

Εφαρμογή νέων τεχνολογιών

Δεινά και καταστροφή

Εξαγωγικό εμπόριο

Αύξηση παραγόμενων προϊόντων



Η θέση και το φυσικό περιβάλλον της Ασίας

Δραστηριότητες

1. Συμπλήρωσε το παρακάτω κείμενο με τις λέξεις που λείπουν:

Η Ασία έχει πλούσιο και ποικιλόμορφο _____. Η μεγαλύτερη οροσειρά της Ασίας αλλά και ολόκληρου του πλανήτη είναι αυτή των _____ με υψηλότερη κορυφή το _____. Ο μεγαλύτερος ποταμός της ηπείρου είναι ο _____ και η μεγαλύτερη λίμνη είναι η _____, η οποία βρίσκεται στα σύνορα της Ασίας με την _____. Η δεύτερη μεγάλη λίμνη είναι η _____ με νερά _____. Χαρακτηριστικό είδος της ασιατικής ερήμου είναι η _____ καμήλα, η οποία φέρει δύο καπούρες. Το οροπέδιο του _____ είναι το μεγαλύτερο στον κόσμο. Εδώ ζει ένα βοοειδές που λέγεται _____ και του οποίου η κοπριά χρησιμοποιείται ως καύσιμη ύλη.

2. Μελέτησε προσεκτικά το χάρτη της Ασίας που υπάρχει στο βιβλίο σου και απάντησε στις παρακάτω ερωτήσεις:

α) Ποιος μεγάλος ποταμός διαρρέει τις πεδιάδες της Ινδίας;

.....

β) Ποιες είναι οι δύο μεγάλες οροσειρές ανάμεσα στις οποίες εκτείνεται το οροπέδιο του Θιβέτ;

.....

γ) Ποιο είναι το μεγαλύτερο νησί στα ανατολικά της Ασίας;

.....

δ) Ποιες είναι οι τέσσερις μεγαλύτερες λίμνες της Ασίας;

.....

ε) Γιατί οι ποταμοί στη Βόρεια Ασία δεν επηρεάζουν σημαντικά τη ζωή των ανθρώπων;

.....

.....

.....

Τα κράτη της Ασίας

Δραστηριότητες

1. Ποιες από τις παρακάτω προτάσεις είναι σωστές και ποιες λανθασμένες;

Γράψε «Σ» για τη σωστή και «Λ» για τη λανθασμένη στο

- α) Τα κράτη της Μέσης Ανατολής έχουν υπέδαφος πλούσιο σε κοιτάσματα πετρελαίου
- β) Η Σιβηρία είναι η πιο πυκνοκατοικημένη περιοχή της Ασίας
- γ) Η Νοτιοανατολική Ασία λέγεται και Ινδική Χερσόνησος
- δ) Η Σιγκαπούρη είναι αρκετά ανεπτυγμένο οικονομικά κράτος
- ε) Η πρωτεύουσα της Ιαπωνίας είναι το Τόκιο

2. Η Ινδία είναι μία χώρα με άφθονους φυσικούς πόρους. Ωστόσο το βιοτικό επίπεδο των κατοίκων της είναι πολύ χαμηλό. Ποιοι είναι οι λόγοι για τους οποίους συμβαίνει αυτό;

.....

.....

.....

.....

.....

.....

3. Συμπλήρωσε την ακροστιχίδα της λέξης «Ιμαλία».

- | | |
|---------|--|
| Ι ____ | Πρωτεύουσά του είναι η Τεχεράνη |
| Μ _____ | Κράτος της Ινδικής Χερσονήσου στον κόλπο της Βεγγάλης |
| Α _____ | Σε αυτήν τη θάλασσα εκβάλλει ο Ινδός ποταμός |
| Λ ____ | Κράτος της Νοτιοανατολικής Ασίας |
| Α _____ | Οροσειρά της Κεντρικής Ασίας |
| Ϊ _____ | Ένα από τα πλουσιότερα κράτη του κόσμου |
| Α _____ | Τα κράτη της Νοτιοανατολικής Ασίας την απέκτησαν κατά τη δεκαετία του 1950 |